

නව නිර්දේශය / புதிய பாடத்திட்டம் / New Syllabus

ශ්‍රී ලංකා විභාග දෙපාර්තමේන්තුව ශ්‍රී ලංකා විභාග දෙපාර්තමේන්තුව ශ්‍රී ලංකා විභාග දෙපාර්තමේන්තුව ශ්‍රී ලංකා විභාග දෙපාර්තමේන්තුව ශ්‍රී ලංකා විභාග දෙපාර්තමේන්තුව
 இலங்கைப் பரீட்சைத் திணைக்களம் இலங்கைப் பரීட்சைத் திணைக்களம் இலங்கைப் பரීட்சைத் திணைக்களம் இலங்கைப் பரීட்சைத் திணைக்களம் இலங்கைப் பரීட்சைத் திணைக்களம்
 Department of Examinations, Sri Lanka Department of Examinations, Sri Lanka Department of Examinations, Sri Lanka Department of Examinations, Sri Lanka Department of Examinations, Sri Lanka

NEW

අධ්‍යයන පොදු සහතික පත්‍ර (උසස් පෙළ) විභාගය, 2020
 கல்விப் பொதுத் தராதரப் பத்திர (உயர் தர)ப் பரீட்சை, 2020
 General Certificate of Education (Adv. Level) Examination, 2020

සංයුක්ත ගණිතය I
 இணைந்த கணிதம் I
 Combined Mathematics I

10 S I

පැය තුනයි
 மூன்று மணித்தியாலம்
 Three hours

අමතර කියවීමේ කාලය - මිනිත්තු 10 යි
 மேலதிக வாசிப்பு நேரம் - 10 நிமிடங்கள்
 Additional Reading Time - 10 minutes

අමතර කියවීමේ කාලය ප්‍රශ්න පත්‍රය කියවා ප්‍රශ්න තෝරා ගැනීමටත් පිළිතුරු ලිවීමේදී ප්‍රමුඛත්වය දෙන ප්‍රශ්න සංවිධානය කර ගැනීමටත් යොදාගන්න.

විභාග අංකය

උපදෙස්:

- * මෙම ප්‍රශ්න පත්‍රය කොටස් දෙකකින් සමන්විත වේ;
 A කොටස (ප්‍රශ්න 1 - 10) සහ B කොටස (ප්‍රශ්න 11 - 17).
- * A කොටස:
 සියලු ම ප්‍රශ්නවලට පිළිතුරු ලියන්න. වැඩිපුර ඉඩ අවකාශව නම්, ඔබට අමතර ලියන කඩදාසි භාවිත කළ හැකි ය.
- * B කොටස:
 ප්‍රශ්න පහකට පමණක් පිළිතුරු සපයන්න. ඔබේ පිළිතුරු, සපයා ඇති කඩදාසිවල ලියන්න.
- * නියමිත කාලය අවසන් වූ පසු A කොටසෙහි පිළිතුරු පත්‍රය, B කොටසෙහි පිළිතුරු පත්‍රයට උඩින් සිටින පරිදි කොටස් දෙක අමුණා විභාග ශාලාධිපතිට භාර දෙන්න.
- * ප්‍රශ්න පත්‍රයෙහි B කොටස පමණක් විභාග ශාලාවෙන් පිටතට ගෙන යාමට ඔබට අවසර ඇත.

පරීක්ෂකවරුන්ගේ ප්‍රයෝජනය සඳහා පමණි.

(10) සංයුක්ත ගණිතය I		
කොටස	ප්‍රශ්න අංකය	ලකුණු
A	1	
	2	
	3	
	4	
	5	
	6	
	7	
	8	
	9	
	10	
B	11	
	12	
	13	
	14	
	15	
	16	
	17	
	එකතුව	

එකතුව

ඉලක්කමෙන්	
අකුරින්	

සංකේත අංක

උත්තර පත්‍ර පරීක්ෂක	
පරීක්ෂා කළේ:	1
	2
අධීක්ෂණය කළේ:	

13.(a) $A = \begin{pmatrix} a+1 & 0 \\ 1 & 1 \\ 0 & 1 \end{pmatrix}$, $B = \begin{pmatrix} 1 & 0 \\ 0 & 1 \\ a & 2 \end{pmatrix}$ හා $C = \begin{pmatrix} a & 1 \\ a & 2 \end{pmatrix}$ යැයි ගනිමු; මෙහි $a \in \mathbb{R}$ වේ.

$A^T B - I = C$ බව පෙන්වන්න; මෙහි I යනු ගණය 2 වන ඒකක න්‍යාසය වේ.

C^{-1} පවතින්නේ $a \neq 0$ ම නම් පමණක් බව ද පෙන්වන්න.

දැන්, $a = 1$ යැයි ගනිමු. C^{-1} ලියා දක්වන්න.

$CPC = 2I + C$ වන පරිදි P න්‍යාසය සොයන්න.

(b) $z, w \in \mathbb{C}$ යැයි ගනිමු. $|z|^2 = z\bar{z}$ බව පෙන්වා, එය $z - w$ ට යෙදීමෙන්

$|z - w|^2 = |z|^2 - 2\text{Re}z\bar{w} + |w|^2$ බව පෙන්වන්න.

$|1 - z\bar{w}|^2$ සඳහා ද එවැනි ප්‍රකාශනයක් ලියා දක්වා, $|z - w|^2 - |1 - z\bar{w}|^2 = -(1 - |z|^2)(1 - |w|^2)$ බව පෙන්වන්න.

$|w| = 1$ හා $z \neq w$ නම් $\left| \frac{z - w}{1 - z\bar{w}} \right| = 1$ බව අපෝහනය කරන්න.

(c) $1 + \sqrt{3}i$ යන්න $r(\cos \theta + i \sin \theta)$ ආකාරයෙන් ප්‍රකාශ කරන්න; මෙහි $r > 0$ හා $0 < \theta < \frac{\pi}{2}$ වේ.

$(1 + \sqrt{3}i)^m (1 - \sqrt{3}i)^n$ සඳහා $m, n \in \mathbb{Z}$ දැක්වෙන්න; මෙහි m හා n ධන නිඛිල වේ.

ද මූලාවර් ප්‍රමේයය යෙදීමෙන් ප්‍රතිඵලය නිර්ණය කිරීමට ප්‍රමාණවත් සමීකරණ ලබා ගන්න.

14.(a) $x \neq 3$ සඳහා $f(x) = \frac{x(2x-3)}{(x-3)^2}$ යැයි ගනිමු.

$f(x)$ හි ව්‍යුත්පන්නය, $f'(x)$ යන්න $x \neq 3$ සඳහා $f'(x) = \frac{9(1-x)}{(x-3)^3}$ මගින් දෙනු ලබන බව පෙන්වන්න.

ඒ නගිත්, $f(x)$ වැඩි වන ප්‍රාන්තරය හා $f(x)$ අඩු වන ප්‍රාන්තර සොයන්න.

$f(x)$ හි හැරුම් ලක්ෂ්‍යයේ බණ්ඩාංක ද සොයන්න.

$x \neq 3$ සඳහා $f''(x) = \frac{18x}{(x-3)^4}$ බව දී ඇත.

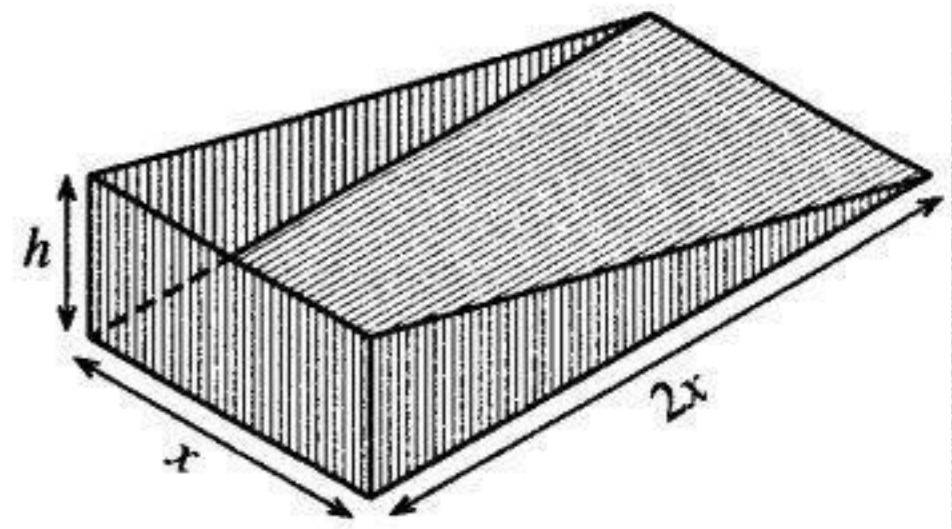
$y = f(x)$ හි ප්‍රස්තාරයේ නතිවර්තන ලක්ෂ්‍යයේ බණ්ඩාංක සොයන්න.

ස්පර්ශෝත්මය, හැරුම් ලක්ෂ්‍යය හා නතිවර්තන ලක්ෂ්‍යය දක්වමින් $y = f(x)$ හි ප්‍රස්තාරයේ දළ සටහනක් අඳින්න.

(b) යාබද රූපයෙන් දැවිලි එකතු කරනයක මිට රහිත කොටස දැක්වේ.

සෙන්ටිමීටරවලින් එහි මාන රූපයේ දැක්වේ. එහි පරිමාව $x^2 h \text{ cm}^3$ යන්න 4500 cm^3 බව දී ඇත.

එහි පෘෂ්ඨ වර්ගඵලය $S \text{ cm}^2$ යන්න $S = 2x^2 + 3xh$ මගින් දෙනු ලැබේ. S අවම වන්නේ $x = 15$ වන විට බව පෙන්වන්න.



15.(a) සියලු $x \in \mathbb{R}$ සඳහා $x^3 + 13x - 16 = A(x^2 + 9)(x + 1) + B(x^2 + 9) + 2(x + 1)^2$

වන පරිදි A හා B නියත පවතින බව දී ඇත.

A හා B හි අගයන් සොයන්න.

ඒ නමින්, $\frac{x^3 + 13x - 16}{(x + 1)^2 (x^2 + 9)}$ යන්න හින්න භාගවලින් ලියා දක්වා,

$$\int \frac{x^3 + 13x - 16}{(x + 1)^2 (x^2 + 9)} dx \text{ සොයන්න.}$$

(b) කොටස් වශයෙන් අනුකලනය භාවිතයෙන්, $\int_0^1 e^x \sin^2 \pi x dx$ අගයන්න.

(c) a නියතයක් වන $\int_0^a f(x) dx = \int_0^a f(a - x) dx$ සූත්‍රය භාවිතයෙන්,

$$\int_0^\pi x \cos^6 x \sin^3 x dx = \frac{1}{63} \int_0^\pi x \sin^6 x \cos^3 x dx \text{ බව පෙන්වන්න.}$$

ඒ නමින්, $\int_0^\pi x \cos^6 x \sin^3 x dx = \frac{1}{63}$ බව පෙන්වන්න.

16. $A \equiv (1, 2)$ හා $B \equiv (3, 3)$ යැයි ගනිමු.

A හා B ලක්ෂ්‍ය හරහා යන l සරල රේඛාවේ සමීකරණය සොයන්න.

එක එකක් l සමග $\frac{\pi}{4}$ ක සුළු කෝණයක් සාදමින් A හරහා යන l_1 හා l_2 සරල රේඛාවල සමීකරණ සොයන්න.

l මත ඕනෑම ලක්ෂ්‍යයක බණ්ඩාංක $(1 + 2t, 2 + t)$ ආකාරයෙන් ලිවිය හැකි බව පෙන්වන්න; මෙහි $t \in \mathbb{R}$ වේ.

l_1 හා l_2 යන දෙකම ස්පර්ශ කරන හා කේන්ද්‍රය l මත වූ මුළුමනින්ම පළමුවන වෘත්ත පාදකයේ පිහිටන අරය $\frac{\sqrt{10}}{2}$ වන, C_1 වෘත්තයේ සමීකරණය $x^2 + y^2 - 6x - 6y + \frac{31}{2} = 0$ බව ද පෙන්වන්න.

විෂ්කම්භයක අන්ත A හා B වූ C_2 වෘත්තයේ සමීකරණය ලියා දක්වන්න.

C_1 හා C_2 වෘත්ත ප්‍රලම්බව ඡේදනය වේ දැයි නිර්ණය කරන්න.

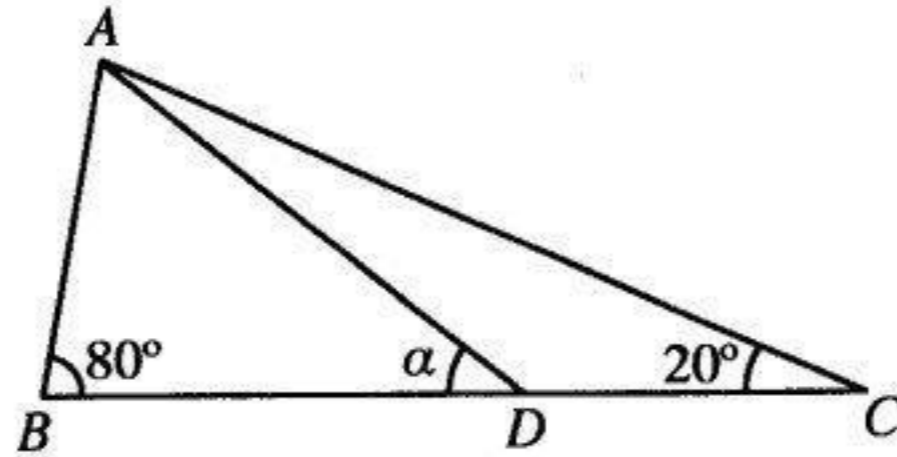
17. (a) $\sin A$, $\cos A$, $\sin B$ හා $\cos B$ ඇසුරෙන් $\sin(A-B)$ ලියා දක්වන්න.

(i) $\sin(90^\circ - \theta) = \cos \theta$, හා

(ii) $2 \sin 10^\circ = \cos 20^\circ - \sqrt{3} \sin 20^\circ$

බව අපෝහනය කරන්න.

(b) සුපුරුදු අංකනයෙන්, ABC ත්‍රිකෝණයක් සඳහා සයින නීතිය ප්‍රකාශ කරන්න.



රූපයේ දක්වා ඇති ABC ත්‍රිකෝණයේ $\hat{A}BC = 80^\circ$ හා $\hat{A}CB = 20^\circ$ වේ. D ලක්ෂ්‍යය BC මත පිහිටා ඇත්තේ $AB = DC$ වන පරිදි ය. $\hat{A}DB = \alpha$ යැයි ගනිමු.

සුදුසු ත්‍රිකෝණ සඳහා සයින නීතිය භාවිතයෙන්, $\sin 80^\circ \sin(\alpha - 20^\circ) = \sin 20^\circ \sin \alpha$ බව පෙන්වන්න.

$\sin 80^\circ = \cos 10^\circ$ බවට පත්වීමෙන් ඇසුරින් පැහැදිලි කර, ඒ නසින්, $\tan \alpha = \frac{\sin 20^\circ}{\cos 20^\circ - 2 \sin 10^\circ}$ බව පෙන්වන්න.

ඉහත (a)(ii) හි ප්‍රතිඵලය භාවිතයෙන් $\alpha = 30^\circ$ බව අපෝහනය කරන්න.

(c) $\tan^{-1}(\cos^2 x) + \tan^{-1}(\sin x) = \frac{\pi}{4}$ සමීකරණය විසඳන්න.

නව නිර්දේශය/புதிய பாடத்திட்டம்/New Syllabus

ශ්‍රී ලංකා විභාග දෙපාර්තමේන්තුව ශ්‍රී ලංකා විභාග දෙපාර්තමේන්තුව ශ්‍රී ලංකා විභාග දෙපාර්තමේන්තුව ශ්‍රී ලංකා විභාග දෙපාර්තමේන්තුව ශ්‍රී ලංකා විභාග දෙපාර්තමේන්තුව
 இலங்கைப் பரீட்சைத் திணைக்களம் இலங்கைப் பரීட்சைத் திணைக்களம் இலங்கைப் பரීட்சைத் திணைக்களம் இலங்கைப் பரීட்சைத் திணைக்களம் இலங்கைப் பரීட்சைத் திணைக்களம்
 Department of Examinations, Sri Lanka Department of Examinations, Sri Lanka Department of Examinations, Sri Lanka Department of Examinations, Sri Lanka Department of Examinations, Sri Lanka

NEW

අධ්‍යයන පොදු සහතික පත්‍ර (උසස් පෙළ) විභාගය, 2020
கல்விப் பொதுத் தராதரப் பத்திர (உயர் தர)ப் பரீட்சை, 2020
General Certificate of Education (Adv. Level) Examination, 2020

සංයුක්ත ගණිතය II
 இணைந்த கணிதம் II
 Combined Mathematics II

10 S II

පැය තුනයි
 மூன்று மணித்தியாலம்
Three hours

අමතර කියවීමේ කාලය - මිනිත්තු 10 යි
 மேலதிக வாசிப்பு நேரம் - 10 நிமிடங்கள்
Additional Reading Time - 10 minutes

අමතර කියවීමේ කාලය ප්‍රශ්න පත්‍රය කියවා ප්‍රශ්න තෝරා ගැනීමටත් පිළිතුරු ලිවීමේදී ප්‍රමුඛත්වය දෙන ප්‍රශ්න සංවිධානය කර ගැනීමටත් යොදාගන්න.

විභාග අංකය

උපදෙස්:

- * මෙම ප්‍රශ්න පත්‍රය කොටස් දෙකකින් සමන්විත වේ;
A කොටස (ප්‍රශ්න 1 - 10) සහ **B කොටස** (ප්‍රශ්න 11 - 17).
- * **A කොටස:** **Paper**
 සියලු ම ප්‍රශ්නවලට පිළිතුරු සපයන්න. එක් එක් ප්‍රශ්නය සඳහා ඔබේ පිළිතුරු, සපයා ඇති ඉඩෙහි ලියන්න. වැඩිපුර ඉඩ අවශ්‍ය වේ. **www.ces.lk**
- * **B කොටස:**
 ප්‍රශ්න පහකට පමණක් පිළිතුරු සපයන්න. ඔබේ පිළිතුරු, සපයා ඇති කඩදාසිවල ලියන්න.
- * නියමිත කාලය අවසන් වූ පසු **A කොටසෙහි** පිළිතුරු පත්‍රය, **B කොටසෙහි** පිළිතුරු පත්‍රයට උඩින් සිටින පරිදි කොටස් දෙක අමුණා විභාග ශාලාධිපතිට භාර දෙන්න.
- * ප්‍රශ්න පත්‍රයෙහි **B කොටස පමණක්** විභාග ශාලාවෙන් පිටතට ගෙන යාමට ඔබට අවසර ඇත.
- * මෙම ප්‍රශ්න පත්‍රයෙහි **g** මගින් ගුරුත්වජ ත්වරණය දැක්වෙයි.

පරීක්ෂකවරුන්ගේ ප්‍රයෝජනය සඳහා පමණි.

(10) සංයුක්ත ගණිතය II		
කොටස	ප්‍රශ්න අංකය	ලකුණු
A	1	
	2	
	3	
	4	
	5	
	6	
	7	
	8	
	9	
	10	
B	11	
	12	
	13	
	14	
	15	
	16	
	17	
	එකතුව	

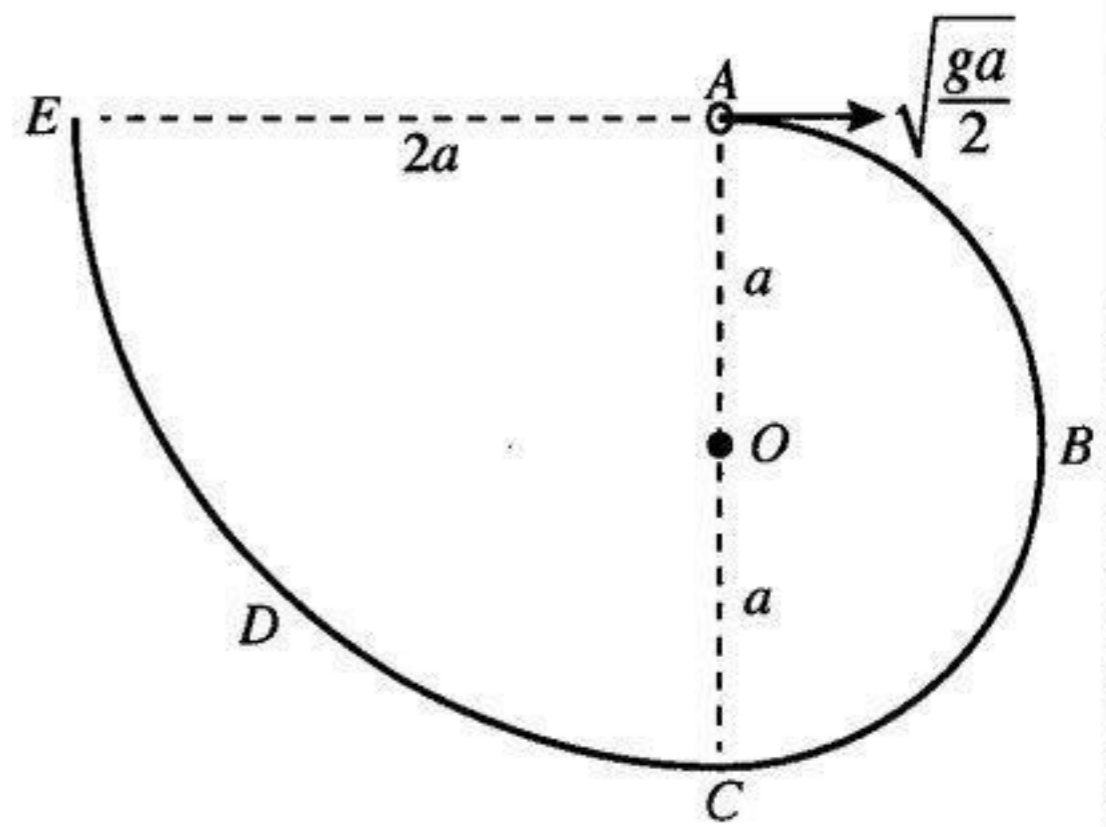
එකතුව

ඉලක්කමෙන්	
අකුරින්	

සංකේත අංක

උත්තර පත්‍ර පරීක්ෂක	
පරීක්ෂා කළේ:	1
	2
අධීක්ෂණය කළේ:	

(b) රූපයේ දැක්වෙන පරිදි ABCDE සුමට තුනී කම්බියක් සිරස් තලයක සවි කර ඇත. ABC කොටස O කේන්ද්‍රය හා අරය a වූ අර්ධ වෘත්තයක් වන අතර CDE කොටස කේන්ද්‍රය A හා අරය $2a$ වූ වෘත්තයකින් හතරෙන් කොටසකි. A හා C ලක්ෂ්‍ය O හරහා යන සිරස් රේඛාවේ පිහිටන අතර, AE රේඛාව තිරස් වේ. ස්කන්ධය m වූ කුඩා සුමට P පබළුවක් A හි තබා තිරස්ව $\sqrt{\frac{ga}{2}}$ ප්‍රවේගයක් දෙනු ලබන අතර එය කම්බිය දිගේ චලිතය ආරම්භ කරයි.



\vec{OA} සමඟ θ ($0 \leq \theta \leq \pi$) කෝණයක් \vec{OP} සාදන විට

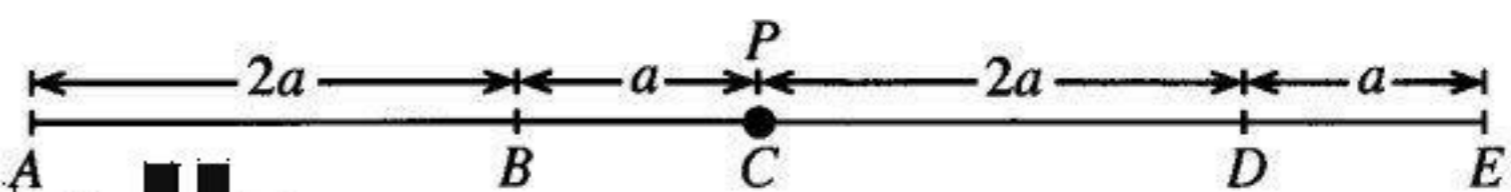
P පබළුවේ v වේගය, $v^2 = \frac{ga}{2}(5 - 4\cos\theta)$ මගින් දෙනු ලබන බව පෙන්වන්න.

ඉහත පිහිටීමේ දී කම්බිය මගින් P පබළුව මත ඇති කරන ප්‍රතික්‍රියාව සොයා, P පබළුව $\theta = \cos^{-1}\left(\frac{5}{6}\right)$ වූ ලක්ෂ්‍යය පසු කරන විට එය එහි දිශාව වෙනස් කරන බව පෙන්වන්න.

P පබළුව E හි දී කම්බියෙන් ඉවත් වීමට මොහොතකට පෙර එහි ප්‍රවේගය ලියා දක්වා එම මොහොතේ දී කම්බිය මගින් P පබළුව මත ඇති කරන ප්‍රතික්‍රියාව සොයන්න.

13. රූපයේ දැක්වෙන පරිදි $AB = 2a, BC = a,$

$CD = 2a$ හා $DE = a$ වන පරිදි A, B, C, D, E හි සවි කරන ලක්ෂ්‍යයක් මත



ලක්ෂ්‍ය එම පිළිවෙළින් සරලව පවතින පරිදි මත පිහිටා ඇත. ස්වභාවික දිග $2a$ හා ප්‍රත්‍යාස්ථතා මාපාංකය kmg වන සැහැල්ලු ප්‍රත්‍යාස්ථ තන්තුවක එක් කෙළවරක් A ලක්ෂ්‍යයට ඇඳා ඇති අතර අනෙක් කෙළවර ස්කන්ධය m වන P අංශුවකට ඇඳා ඇත. ස්වභාවික දිග a හා ප්‍රත්‍යාස්ථතා මාපාංකය mg වන තවත් සැහැල්ලු ප්‍රත්‍යාස්ථ තන්තුවක එක් කෙළවරක් E ලක්ෂ්‍යයට ඇඳා ඇති අතර අනෙක් කෙළවර P අංශුවට ඇඳා ඇත.

P අංශුව C හි අල්වා තබා මුදා හල විට, එය සමතුලිතතාවේ පවතී. k හි අගය සොයන්න.

දැන්, P අංශුව D ලක්ෂ්‍යයට ළඟා වන තෙක් AP තන්තුව ඇඳ නිශ්චලතාවයේ සිට මුදා හරිනු ලැබේ.

D සිට B දක්වා P හි චලිත සමීකරණය $\ddot{x} + \frac{3g}{a}x = 0$ මගින් දෙනු ලබන බව පෙන්වන්න; මෙහි $CP = x$ වේ. $\dot{x}^2 = \frac{3g}{a}(c^2 - x^2)$ සූත්‍රය භාවිතයෙන් P අංශුව B ට ළඟා වන විට එහි ප්‍රවේගය $3\sqrt{ga}$ බව පෙන්වන්න; මෙහි c යනු විස්තාරය වේ.

P අංශුව B වෙත ළඟා වන විට එයට ආවේගයක් දෙනු ලබන්නේ ආවේගයෙන් මොහොතකට පසු P හි ප්‍රවේගය \vec{BA} දිශාවට \sqrt{ag} වන පරිදි ය.

B පසු කිරීමෙන් පසු ක්ෂණික නිසලතාවට පත්වන තෙක් P හි චලිත සමීකරණය $\ddot{y} + \frac{g}{a}y = 0$ මගින් දෙනු ලබන බව පෙන්වන්න; මෙහි $DP = y$ වේ.

D වලින් පටන් ගත් P අංශුව දෙවන වතාවට B වෙත පැමිණීමට ගන්නා මුළු කාලය $2\sqrt{\frac{a}{g}}\left(\frac{\pi}{3\sqrt{3}} + \cos^{-1}\left(\frac{3}{\sqrt{10}}\right)\right)$ බව පෙන්වන්න.

14.(a) a හා b යනු ඒක දෛශික දෙකක් යැයි ගනිමු.

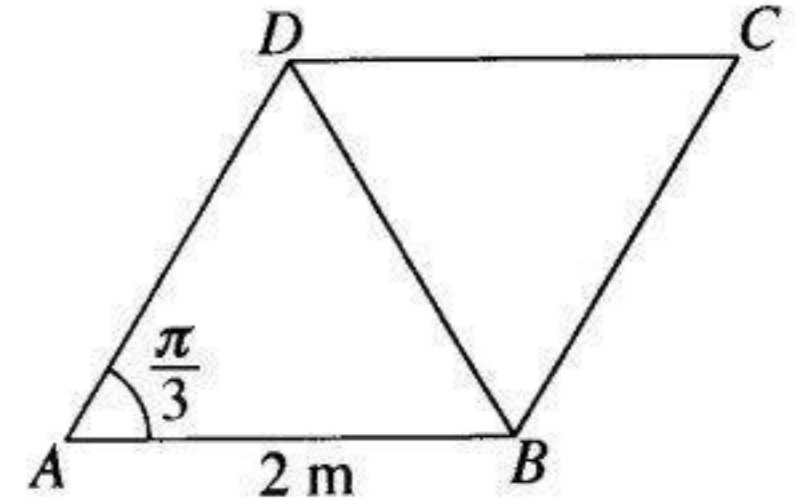
O මූලයක් අනුබද්ධයෙන් A, B හා C ලක්ෂ්‍ය තුනක පිහිටුම් දෛශික පිළිවෙළින් $12a, 18b$ හා $10a + 3b$ වේ.

a හා b ඇසුරෙන් \vec{AC} හා \vec{CB} ප්‍රකාශ කරන්න.

A, B හා C ඒක රේඛීය බව අපෝහනය කර, AC : CB සොයන්න.

$OC = \sqrt{139}$ බව දී ඇත. $\hat{AOB} = \frac{\pi}{3}$ බව පෙන්වන්න.

(b) ABCD යනු $AB = 2\text{ m}$ හා $\hat{BAD} = \frac{\pi}{3}$ වූ රොම්බසයකි. විශාලත්වය 10 N, 2 N, 6 N, P N හා Q N වූ බල පිළිවෙළින් AD, BA, BD, DC හා CB දිගේ අක්ෂර අනුපිළිවෙළින් දැක්වෙන දිශාවලට ක්‍රියා කරයි. සම්ප්‍රයුක්ත බලයේ විශාලත්වය 10 N ද එහි දිශාව BC ට සමාන්තර B සිට C අතට වූ දිශාව බව ද දී ඇත. P හා Q හි අගයන් සොයන්න.

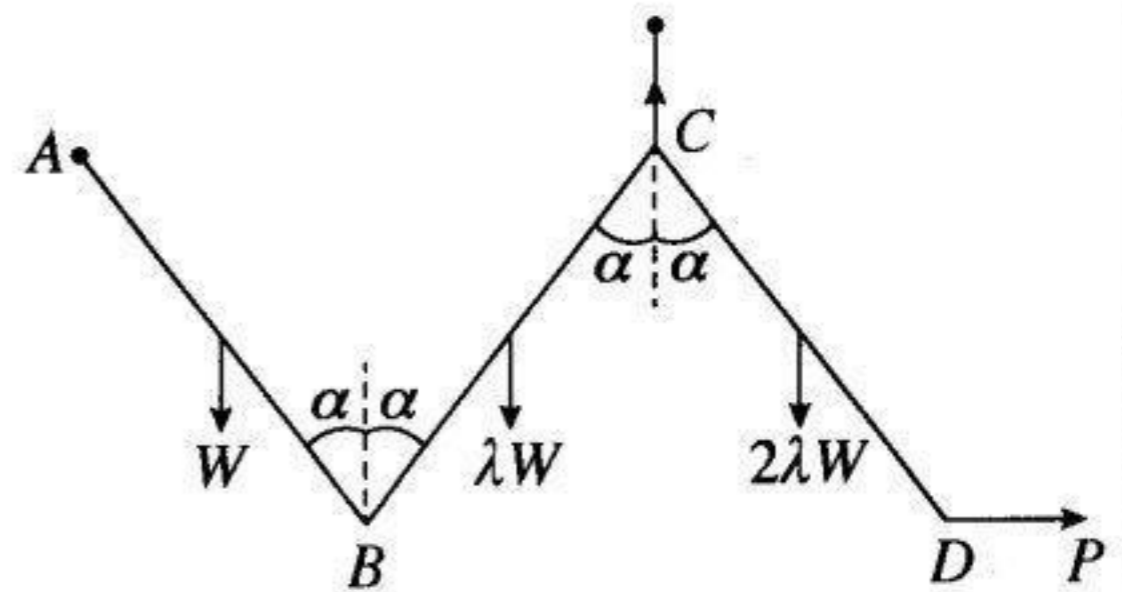


සම්ප්‍රයුක්ත බලයෙහි ක්‍රියා රේඛාව, දික් කරන ලද BA හමුවන ලක්ෂ්‍යයට A සිට ඇති දුර ද සොයන්න.

දැන්, සම්ප්‍රයුක්ත බලය A හා C ලක්ෂ්‍ය හරහා යන පරිදි වාමාවර්ත අතට ක්‍රියා කරන ඝූර්ණය M Nm වූ යුග්මයක් ද CB හා DC දිගේ අක්ෂර අනුපිළිවෙළින් දැක්වෙන දිශාවලට ක්‍රියා කරන එක එකෙහි විශාලත්වය F N වූ බල දෙකක් ද පද්ධතියට එකතු කරනු ලැබේ. F හා M හි අගයන් සොයන්න.

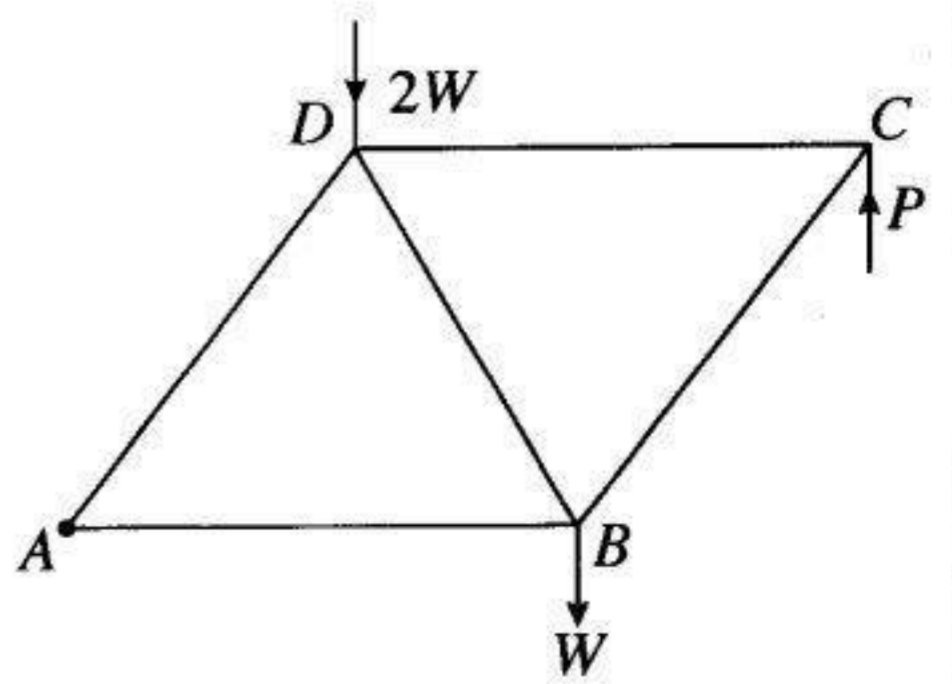
Paper

15.(a) එක එකෙහි දිග $2a$ හා CD ඒකාකාර දඬු තුනක් B හා C අන්තවල දිගින් සමාන දිගින් ඇත. AB, BC හා CD දඬුවල බර $W, \lambda W$ හා $2\lambda W$ වේ. A කෙළවර අවල ලක්ෂ්‍යයකට සුළු ලෙස අසව කර ඇත. රූපයේ දැක්වෙන පරිදි දඬු සිරස් තලයක සමතුලිතව තබා ඇත්තේ A හා C එකම තිරස් මට්ටමේ ද දඬු එක එකක් සිරස සමග α කෝණයක් සාදන පරිදි ද C සන්ධියට හා C ට සිරස්ව ඉහළින් වූ අවල ලක්ෂ්‍යයකට ඇඳු සැහැල්ලු අවිනාශ තන්තුවක් මගින් හා D අන්තයට යෙදූ තිරස් P බලයක් මගිනි. $\lambda = \frac{1}{3}$ බව පෙන්වන්න.



B හි දී CB මගින් AB මත ඇති කරන බලයේ තිරස් හා සිරස් සංරචක පිළිවෙළින් $\frac{W}{3} \tan \alpha$ හා $\frac{W}{6}$ බව ද පෙන්වන්න.

(b) යාබද රූපයේ දැක්වෙන රාමු සැකිල්ල සාදා ඇත්තේ A, B, C හා D හි දී නිදහසේ සන්ධි කරන ලද එක එකෙහි දිග $2a$ වන AB, BC, CD, DA හා BD සැහැල්ලු දඬු මගිනි. B හා D හි දී පිළිවෙළින් W හා 2W වන භාර ඇත. රාමු සැකිල්ල A හි දී සුමටව අවල ලක්ෂ්‍යයකට අසව කර AB තිරස්ව ඇතිව සමතුලිතතාවේ තබා ඇත්තේ C හි දී සිරස්ව ඉහළට යොදන ලද P බලයක් මගිනි. W ඇසුරෙන් P හි අගය සොයන්න.

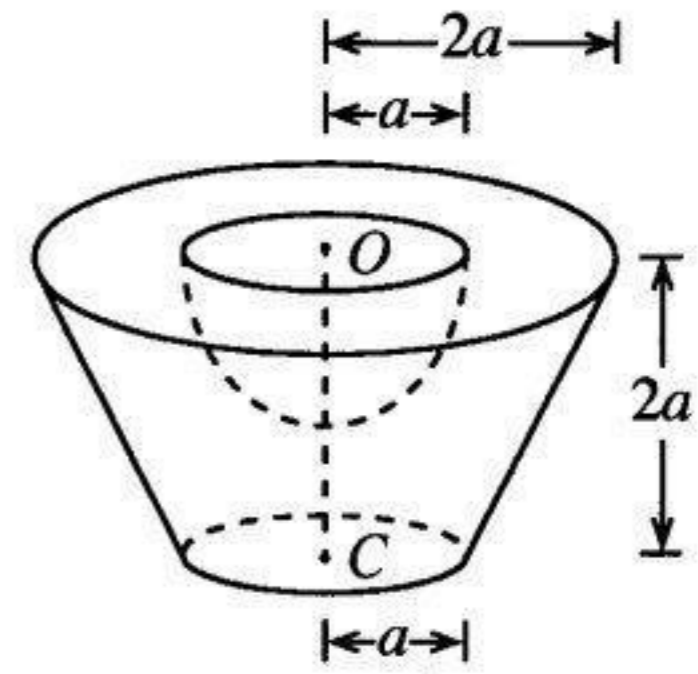


බෝ අංකනය භාවිතයෙන්, ප්‍රත්‍යාබල සටහනක් ඇඳ ඒ නගින, දඬුවල ප්‍රත්‍යාබල ආතති ද තෙරපුම් ද යන්න සඳහන් කරමින් ඒවා සොයන්න.

16. (i) පතුලේ අරය r හා උස h වූ ඒකාකාර ඝන සෘජු වෘත්තාකාර කේතුවක ස්කන්ධ කේන්ද්‍රය පතුලේ කේන්ද්‍රයේ සිට $\frac{h}{4}$ දුරකින් ද

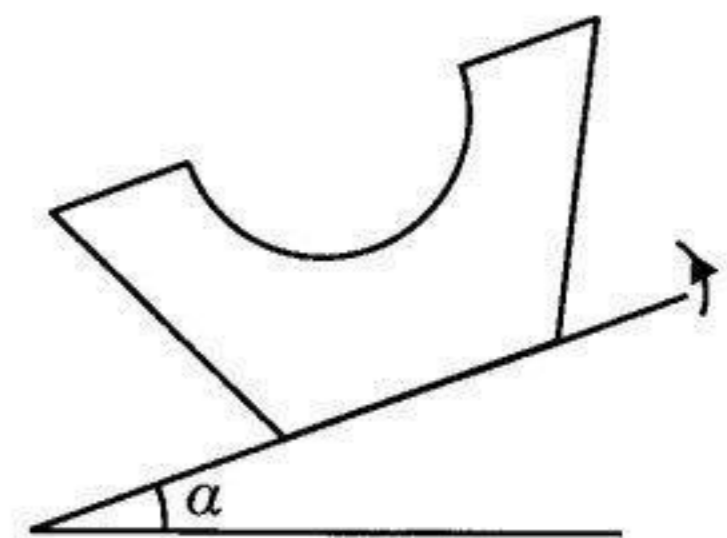
(ii) අරය r වන ඒකාකාර ඝන අර්ධගෝලයක ස්කන්ධ කේන්ද්‍රය, කේන්ද්‍රයේ සිට $\frac{3r}{8}$ දුරකින් ද පිහිටන බව පෙන්වන්න.

පතුලේ අරය $2a$ හා උස $4a$ වූ ඒකාකාර ඝන සෘජු වෘත්ත කේතුවක ඡින්නකයකින් ඝන අර්ධ ගෝලයක් ඉවත් කර සාදා ඇති S වංගෙඩියක් යාබද රූපයේ දැක්වේ. ඡින්නකයේ ඉහළ වෘත්තාකාර මුහුණතේ අරය හා කේන්ද්‍රය පිළිවෙලින් $2a$ හා O වන අතර පහළ වෘත්තාකාර මුහුණත සඳහා ඒවා පිළිවෙලින් a හා C වේ. ඡින්නකයේ උස $2a$ වේ. ඉවත් කළ ඝන අර්ධ ගෝලයෙහි අරය හා කේන්ද්‍රය පිළිවෙලින් a හා O වේ.



S වංගෙඩියේ ස්කන්ධ කේන්ද්‍රය O සිට $\frac{41}{48}a$ දුරකින් පිහිටන බව පෙන්වන්න.

S වංගෙඩිය, එහි පහළ වෘත්තාකාර මුහුණත, තලය ස්පර්ශ කරමින් රළු තිරස් තලයක් මත තබා ඇත. දැන්, තලය සෙමෙන් උඩු අතට ඇල කරනු ලැබේ. වංගෙඩිය හා තලය අතර ඝර්ෂණ සංගුණකය 0.9 වේ. $a < \tan^{-1}(0.9)$ නම්, වංගෙඩිය සමතුලිතව පවතින බව පෙන්වන්න; මෙහි a යනු තලයේ තිරසර ආනතිය වේ.



Paper
www.paper.lk

17.(a) එක්තරා කර්මාන්තශාලාවක අයිතමවලින් 50% ක් A යන්ත්‍රය නිපදවන අතර ඉතිරිය B හා C යන්ත්‍ර මගින් නිපදවනු ලැබේ. A , B හා C යන්ත්‍ර මගින් නිපදවනු ලබන අයිතමවලින් පිළිවෙලින් 1%, 3% හා 2% ක් දෝෂ සහිත බව දැනිමු. සසම්භාවීව තෝරාගත් අයිතමයක් දෝෂ සහිත වීමේ සම්භාවිතාව 0.018 බව දී ඇත. B හා C යන්ත්‍ර මගින් නිපදවනු ලබන අයිතමවල ප්‍රතිශත සොයන්න.

සසම්භාවී ලෙස තෝරාගත් අයිතමයක් දෝෂ සහිත බව දී ඇති විට, එය A යන්ත්‍රය මගින් නිපදවන ලද එකක් වීමේ සම්භාවිතාව සොයන්න.

(b) එක්තරා කර්මාන්තශාලාවක සේවකයින් 100 දෙනකු තම නිවසේ සිට සේවා ස්ථානයට ගමන් කිරීමට ගනු ලබන කාලය (මිනිත්තුවලින්) පහත වගුවේ දී ඇත:

ගනු ලබන කාලය	සේවකයින් ගණන
0 - 20	10
20 - 40	30
40 - 60	40
60 - 80	10
80 - 100	10

ඉහත දී ඇති ව්‍යාප්තියේ මධ්‍යන්‍යය, සම්මත අපගමනය හා මාතය නිමානය කරන්න.
පසුව, 80 - 100 පන්ති ප්‍රාන්තරයේ සිටි සියලුම සේවකයින් කර්මාන්තශාලාව ආසන්නයේ පදිංචියට ගොස් ඇත. එයින්, 80 - 100 පන්ති ප්‍රාන්තරයේ සංඛ්‍යාතය 10 සිට 0 දක්වා ද 0 - 20 පන්ති ප්‍රාන්තරයේ සංඛ්‍යාතය 10 සිට 20 දක්වා ද වෙනස් විය.

නව ව්‍යාප්තියේ මධ්‍යන්‍යය, සම්මත අපගමනය හා මාතය නිමානය කරන්න.